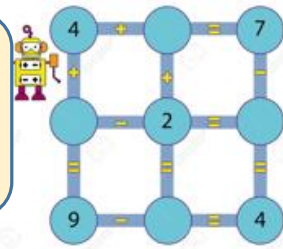


Ciao, questa è la tua  
Palestra della mente:  
calcoli mente



Esercizio n. 3  
Addizioni con  
addendi a 3 cifre

1	3	7	+	2	7	2	=	4	0	9
---	---	---	---	---	---	---	---	---	---	---

Diagram illustrating the addition of 137 and 272. The digits are circled: 1 (green), 3 (red), 7 (blue) for the first number; 2 (green), 7 (red), 2 (blue) for the second. Arrows indicate the carrying process: a red arrow from the tens place (7+7=14) to the hundreds place (1+2+1=4) is labeled '100'; a green arrow from the units place (7+2=9) to the tens place is labeled '300'; a blue arrow from the tens place (3+7=10) to the units place is labeled '9'.

Prova tu a fare i calcoli. Unisci con le frecce prima le centinaia, poi le decine e infine le unità poi fai calcoli a mente.

2	5	1	+	3	4	2	=			
---	---	---	---	---	---	---	---	--	--	--

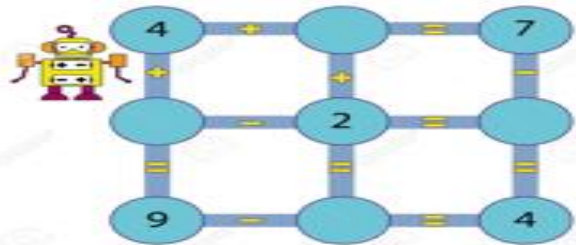
Prova tu a fare i calcoli. Prima circonda le centinaia, poi le decine e infine le unità poi fai i calcoli a mente

3	2	2	+	4	4	2	=			
---	---	---	---	---	---	---	---	--	--	--

4	2	2	+	1	4	2	=			
---	---	---	---	---	---	---	---	--	--	--



Vai così!



Prova tu a fare i calcoli. Unisci con le freccia prima le centinaia, poi le decine e infine le unità poi fai calcoli a mente.

2	3	7	+	2	7	2	=				
---	---	---	---	---	---	---	---	--	--	--	--

Prova tu a fare i calcoli. Prima circonda le centinaia, poi le decine e infine le unità poi fai i calcoli a mente

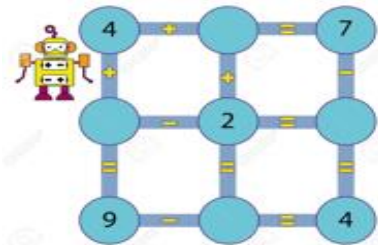
3	5	1	+	3	4	2	=				
---	---	---	---	---	---	---	---	--	--	--	--

2	2	2	+	2	4	2	=				
---	---	---	---	---	---	---	---	--	--	--	--

4	2	2	+	2	4	2	=				
---	---	---	---	---	---	---	---	--	--	--	--



Sei un mito, vai così!



Prova tu a fare i calcoli. Unisci con le frecce prima le centinaia, poi le decine e infine le unità poi fai calcoli a mente.

2	3	4	+	2	7	3	=				
---	---	---	---	---	---	---	---	--	--	--	--

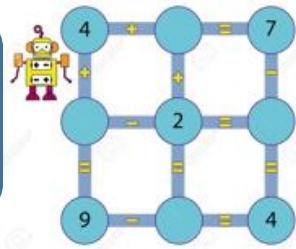
1	5	6	+	3	4	3	=				
---	---	---	---	---	---	---	---	--	--	--	--

3	2	2	+	4	8	2	=				
---	---	---	---	---	---	---	---	--	--	--	--

5	2	7	+	1	4	1	=				
---	---	---	---	---	---	---	---	--	--	--	--



Metticela tutta. Cosdì ti cresce la zucca.



va tu a fare i calcoli. Unisci con le freccia ma le centinaia, poi le decine e infine le unità poi fai calocli a mente.

6	3	4	+	2	7	6	=				
---	---	---	---	---	---	---	---	--	--	--	--

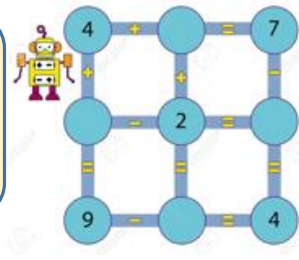
6	5	1	+	3	4	3	=				
---	---	---	---	---	---	---	---	--	--	--	--

4	2	8	+	2	8	2	=				
---	---	---	---	---	---	---	---	--	--	--	--

5	2	7	+	1	4	3	=				
---	---	---	---	---	---	---	---	--	--	--	--



OK, facciamoli un po' più difficile.




Prova tu a fare i calcoli. Adesso non ci sono più i riquadri, devi stare più attento. Unisci con le frecce prima le centinaia, poi le decine e infine le unità poi fai calcoli a mente.

$$\overset{\text{centinaia}}{\text{2}} \overset{\text{decine}}{\text{3}} \overset{\text{unità}}{\text{4}} + \overset{\text{centinaia}}{\text{2}} \overset{\text{decine}}{\text{7}} \overset{\text{unità}}{\text{6}} =$$

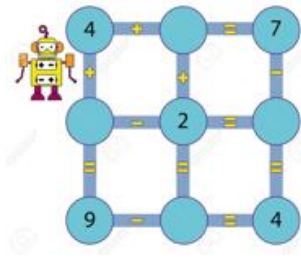
$$3 \quad 5 \quad 1 + 1 \quad 4 \quad 3 =$$

$$1 \quad 2 \quad 8 + 6 \quad 8 \quad 2 =$$

$$4 \quad 2 \quad 7 + 1 \quad 4 \quad 3 =$$



Mi ha telefonato il tuo emisfero sinistro, dice che sta diventando forte. Lo vado a trovare.



Prova tu a fare i calcoli. Adesso non ci sono più i riquadri, devi stare più attento. Unisci con le frecce prima le centinaia, poi le decine e infine le unità poi fai calcoli a mente.

$$631 + 273 =$$

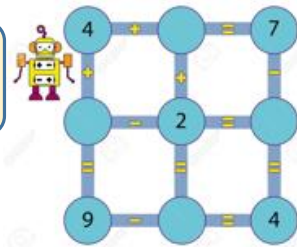
$$457 + 243 =$$

$$316 + 682 =$$

$$621 + 343 =$$

**Come?  
Sei stanco!**

**Non ci provare!...  
Anora un sforzo, dai.**



Prova tu a fare i calcoli. Adesso non ci sono più i riquadri, devi stare più attento. Unisci con le frecce prima le centinaia, poi le decine e infine le unità poi fai calcoli a mente.

$$4 \quad 3 \quad 1 \quad + \quad 3 \quad 7 \quad 3 \quad =$$

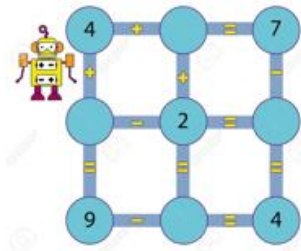
$$2 \quad 5 \quad 7 \quad + \quad 1 \quad 4 \quad 3 \quad =$$

$$7 \quad 1 \quad 6 \quad + \quad 1 \quad 8 \quad 2 \quad =$$

$$5 \quad 2 \quad 1 \quad + \quad 2 \quad 4 \quad 3 \quad =$$



Sempre più  
difficile, e vai!



Per fare più veloce puoi unire i numeri anche così

$$\textcircled{2} \textcircled{3} 3 + \textcircled{2} \textcircled{6} 6 =$$

$$3 4 1 + 1 1 7 =$$

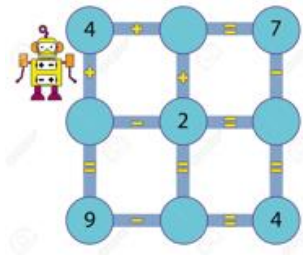
$$5 2 2 + 1 7 7 =$$

$$3 8 1 + 3 1 3 =$$





Idea geniale!  
Adesso che sei allenato scrivi  
tu le operazioni!



oi fai questo esercizio anche su un foglio bianco

$$\boxed{\phantom{00}} + \boxed{\phantom{00}} = \boxed{\phantom{000}}$$

$$\boxed{\phantom{00}} + \boxed{\phantom{00}} = \boxed{\phantom{000}}$$

$$\boxed{\phantom{00}} + \boxed{\phantom{00}} = \boxed{\phantom{000}}$$

$$\boxed{\phantom{00}} + \boxed{\phantom{00}} = \boxed{\phantom{000}}$$

$$\boxed{\phantom{00}} + \boxed{\phantom{00}} = \boxed{\phantom{000}}$$

$$\boxed{\phantom{00}} + \boxed{\phantom{00}} = \boxed{\phantom{000}}$$

# Campagna promozionale

Una zucca bene allenata  
é più importante di una frittata!



Forse ho detto una  
stupidaggine. Forse devo  
allenare anche la memoria.